

TEST č. 27 Označ všechny správné odpovědi na zadané otázky

1. Pokud cyklista vede jízdní kolo

- A) je chodcem, ale smí užít chodníku, jen neohrozí-li ostatní chodce
 - B) je řidičem a nesmí v žádném případě užít chodník
 - C) může užít pouze krajnici
-

2. Za „křižovatku“ se nepovažuje

- A) vyústění polní nebo lesní cesty na jinou pozemní komunikaci
 - B) místo, které není označené dopravní značkou „Křižovatka“
 - C) vyústění jiné účelové komunikace na jinou pozemní komunikaci
-

3. Řidič přijíždějící na křižovatku po vedlejší pozemní komunikaci

- A) musí dát přednost v jízdě vozidlům přijíždějícím po hlavní pozemní komunikaci
 - B) nemusí dát přednost v jízdě cyklistům
 - C) musí dát přednost v jízdě jezdcům na zvířatech přijíždějícím po hlavní pozemní komunikaci
-

4. Na jednomístném jízdním kole

- A) je vždy dovoleno jezdit i ve dvou
 - B) je výjimečně dovoleno jezdit i ve dvou
 - C) není dovoleno jezdit ve dvou
-

5. Před železničním přejezdem

- A) musí cyklista vždy sesednout z kola
 - B) se cyklista musí přesvědčit, zda může bezpečně přejet
 - C) se cyklista nemusí přesvědčit, zda může bezpečně přejet, když nevidí vlak
-

6. K zásadám bezpečné jízdy patří

- A) předvídavost
 - B) pozornost
 - C) znalost pravidel silničního provozu
-

7. Jízdní kolo musí být vybaveno

- A) alespoň jednou brzdou
- B) třemi a více účinnými brzdami
- C) dvěma na sobě nezávislými účinnými brzdami



8. Tento pokyn policisty znamená

- A) „Volno!“ pro řidiče přijíždějících k čelu policisty, pokud odbočují vlevo
- B) „Stůj!“ pro řidiče přijíždějící k zadům a pravému boku policisty
- C) „Volno!“ pro řidiče přijíždějících k čelu policisty, pokud odbočují vpravo

9. Cyklista jede podle pravidel silničního provozu

- A) ano
- B) ne
- C) nevím



10. Dopravní značka

- A) označuje křižovatku ve tvaru „T“
- B) přikazuje směr jízdy vpravo a vlevo
- C) zakazuje otáčení



11. Dopravní značka

- A) zakazuje vjezd všech motorových vozidel s výjimkou motocyklů bez postranního vozíku
- B) zakazuje vjezd osobních aut
- C) označuje silnici pro motorová vozidla



12. Tato dopravní značka

- A) označuje jízdní pruh
- B) upozorňuje na křižovatku a označuje hlavní pozemní komunikaci
- C) se užívá mimo obec



13. Která dopravní značka vyznačuje plochu, kde je zakázáno stání?



A




B



C

14. Rozsvícený světelný signál znamená

- A) že cyklista musí zastavit vozidlo
- B) že se cyklista připraví k jízdě
- C) že cyklista nesmí pokračovat v jízdě v přímém směru

**15. Cyklista z výhledu:**

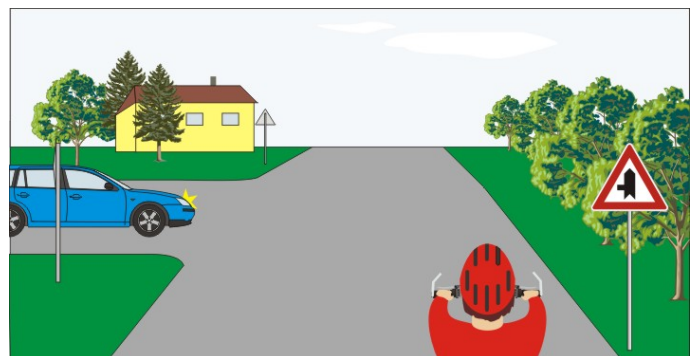
- A) musí dát přednost chodci se psem
- B) má přednost před modrým vozidlem
- C) projede křižovatkou jako první

**16. Jako poslední projede křižovatkou:**

- A) cyklista přijíždějící zleva
- B) cyklista z výhledu
- C) jezdec na zvířeti

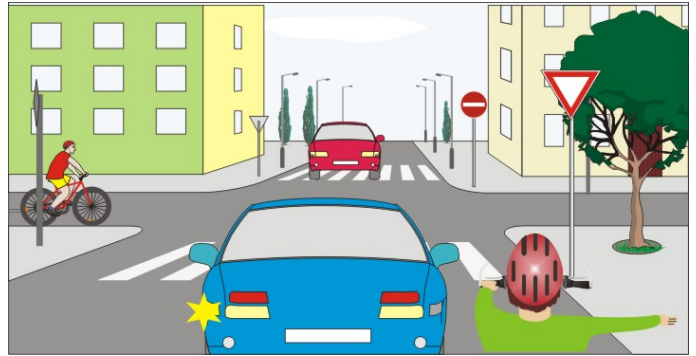
**17. Jako první projede křižovatkou:**

- A) cyklista, protože přijíždí zprava
- B) modré vozidlo
- C) cyklista, protože přijíždí po hlavní pozemní komunikaci

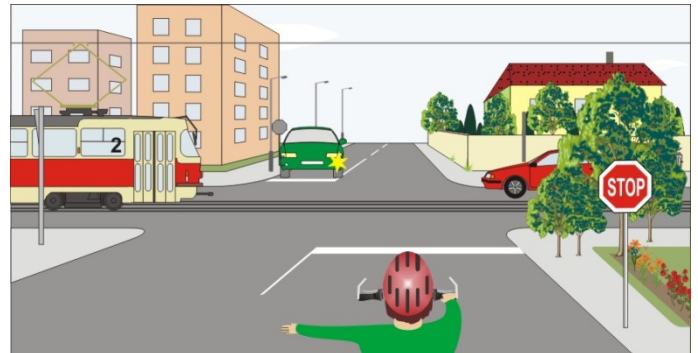


18. Cyklista z výhledu a modré vozidlo:

- A) projedou křižovatkou jako první
- B) nemohou pokračovat v jízdě v přímém směru
- C) přijíždějí po vedlejší pozemní komunikaci

**19. Vozidla projedou v pořadí:**

- A) 1. zelené současně s cyklistou, 2. tramvaj současně s červeným
- B) tramvaj současně s červeným, 2. cyklista současně se zeleným
- C) 1. zelené, 2. červené, 3. tramvaj, 4. cyklista

**20. Autobus:**

- A) má vždy přednost v jízdě před cyklistou
- B) má přednost v jízdě, protože jede po kruhovém objezdu
- C) dává přednost v jízdě cyklistovi

