

TEST č. 11 Označ všechny správné odpovědi na zadané otázky

1. Znamení o změně směru jízdy řidič dává

- A) vždy při změně směru jízdy
 - B) při vybočování ze směru jízdy
 - C) jestliže to vyžaduje bezpečnost silničního provozu
-

2. Pokud cyklista vede jízdní kolo

- A) smí užít chodníku, jen neohrozí-li ostatní chodce
 - B) nesmí v žádném případě užít chodník
 - C) za snížené viditelnosti nesmí užít chodník
-

3. Před železničním přejezdem se značkou „Stůj, dej přednost v jízdě!“

- A) nemusí cyklista zastavit vozidlo, když nejede vlak
 - B) musí cyklista zastavit vozidlo nejméně 10 metrů před přejezdem
 - C) musí cyklista zastavit vozidlo na takovém místě, odkud má náležitý rozhled na trať
-

4. Řidič nesmí ohrozit chodce

- A) přecházejícího pozemní komunikaci, na kterou řidič odbočuje
 - B) při vjíždění na pozemní komunikaci
 - C) při otáčení nebo couvání
-

5. Za „křižovatku“ se považuje

- A) místo, v němž se pozemní komunikace spojují
 - B) místo, kde se účelová komunikace napojuje na silnici
 - C) místo, v němž se pozemní komunikace protínají
-

6. Mezi zásady bezpečné jízdy patří

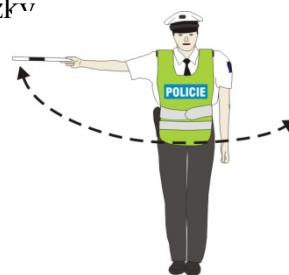
- A) nevšímavost
 - B) pozornost
 - C) ohleduplnost
-

7. Zadní svítilna vyzařující světlo červené barvy může být nahrazena

- A) svítilnou s nepřerušovaným světlem oranžové barvy
- B) svítilnou s přerušovaným světlem červené barvy
- C) svítilnou s přerušovaným světlem modré barvy

8. Tento pokyn policisty znamená

- A) „Zpomalit jízdu!“
- B) „Zrychlit jízdu!“
- C) „Pozor!“ pro všechny řidiče

**9. Přednost v jízdě mají řidiči protijedoucích vozidel**

- A) ano
- B) ne
- C) nevím

**10. Dopravní značka vyznačuje**

- A) prostor, kam je zakázáno vjíždět
- B) hranici křižovatky
- C) zastávku pro autobusy

**11. Tato dopravní značka označuje**

- A) konec stezky pro cyklisty
- B) zákaz vjezdu jízdních kol
- C) zákaz parkování pro jízdní kola

**12. Dopravní značka označuje**

- A) křižovatku
- B) výstražný kříž pro železniční přejezd jednokolejný
- C) zákaz vjezdu

**13. Která dopravní značka zakazuje vjezd všem motorovým vozidlům?**


A



B



C



14. Takto rozsvícený světelný signál znamená

- A) připravit se k jízdě vlevo
- B) připravit se k jízdě ve směru přímo nebo vpravo
- C) zastavit vozidlo

15. Autobus má přednost v jízdě:

- A) protože přijíždí zleva
- B) protože veze cestující
- C) protože jede po kruhovém objezdu



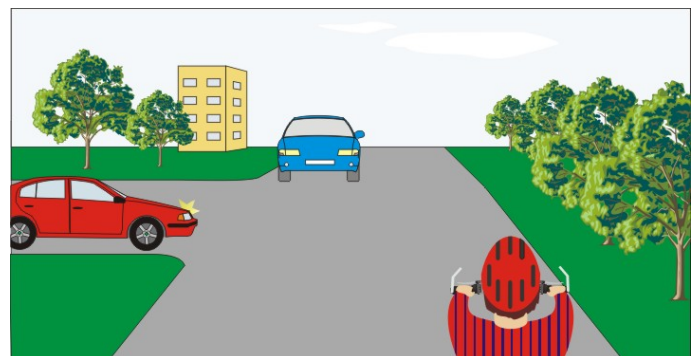
16. Cyklista:

- A) má přednost před autobusem
- B) má přednost před zeleným vozidlem
- C) dává přednost autobusu



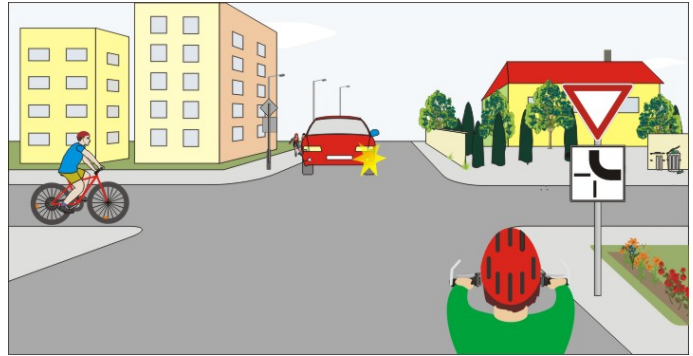
17. Vozidla projedou křižovatkou v pořadí:

- A) 1. cyklista současně s modrým, 2. červené
- B) 1. cyklista, 2. červené, 3. modré
- C) 1. modré, 2. červené, 3. cyklista

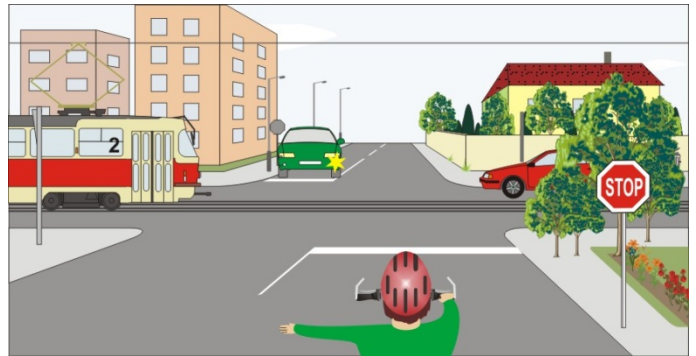


18. Cyklista z výhledu:

- A) má přednost před cyklistou přijíždějícím zleva
- B) dává přednost červenému vozidlu
- C) projede křižovatkou jako druhý

**19. Cyklista:**

- A) může odbočit vlevo, ale musí dát přednost zelenému vozidlu
- B) musí dát přednost tramvaji a červenému vozidlu
- C) musí dát přednost pouze tramvaji

**20. Cyklista projede křižovatkou:**

- A) jako druhý
- B) jako poslední
- C) jako první současně se žlutým vozidlem

